

**PEPERIKSAAN PERCUBAAN SPM SEPTEMBER 2024
SMK TAWAU TINGKATAN 5
EKONOMI KERTAS 2 - 2 JAM 15 MINIT**

Nama :
Tingkatan :

BAHAGIAN A- JAWAB SEMUA SOALAN [60 MARKAH]

1. (a) Rajah berikut adalah faktor -faktor pengeluaran dalam ekonomi.



Gambar 1

Gambar 2

Jelaskan perbandingan sumber ekonomi berdasarkan rajah tersebut.

.....

.....

.....

.....

.....

.....

.....

.....

.....

.....

[5 markah]

(b) Maklumat berkaitan dengan keluaran Syarikat Novelis

Sebuah Syarikat Novelis di Sabah bercadang untuk mengeluarkan novel dengan jumlah 150,000 unit di pasaran. Syarikat bercadang untuk memasarkan novel dan majalah ke seluruh negara terutama di kawasan yang mempunyai penduduk dalam kalangan remaja dan wanita.

Terangkan masalah asas ekonomi yang telah diselesaikan.

.....

.....

.....

.....

.....

.....

.....

.....

.....

.....

.....

.....

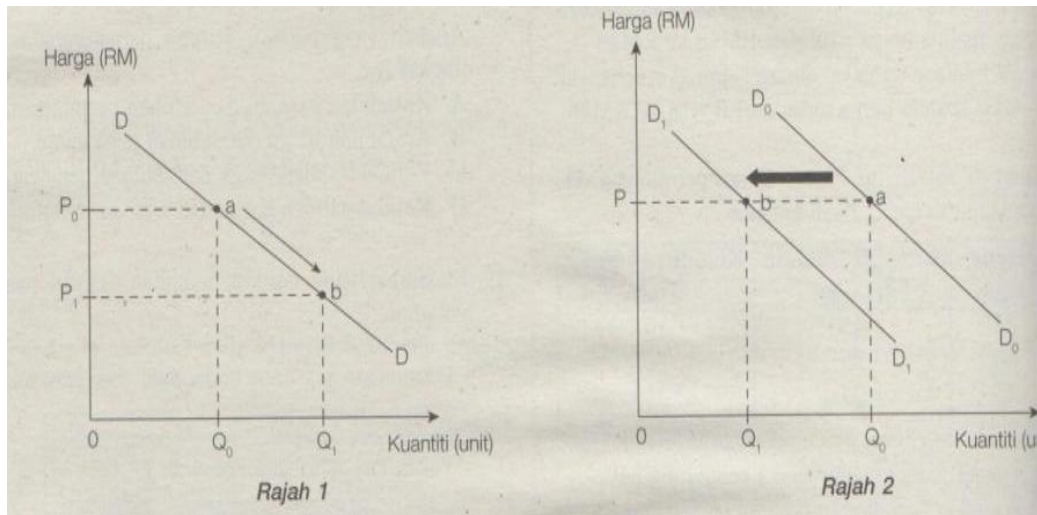
.....

.....

.....

[4 markah]

(c) Rajah menunjukkan keluk permintaan individu.



Bezakan perubahan titik a ke titik b kedua-dua rajah tersebut.

.....

.....

.....

.....

.....

.....

.....

.....

.....

.....

.....

.....

.....

.....

.....

.....

.....

.....

.....

.....

.....

.....

[6 markah]

(d) Jadual menunjukkan nilai pekali keanjalan permintaan suatu barang.

| Barang A | Barang B |
|-----------------|-----------------|
| 0.5 | 1.5 |

Sebagai pengeluar, tindakan yang perlu dilakukan berdasarkan jenis keanjalan tersebut. Beri alasan anda.

.....

.....

.....

.....

.....

.....

.....

.....

.....

.....

.....

.....


.....

.....

.....

[5 markah]

2. (a) Perbualan berikut berkaitan dengan kemudahan pinjaman bank perdagangan.



Mengapakah pegawai bank menasihat Encik Halim menggunakan kemudahan tersebut?

.....

.....

.....

.....

.....

.....

.....

.....

.....

.....

.....

.....

.....

.....

.....

[5 markah]

(b) Maklumat berikut berkaitan dengan aktiviti ekonomi.

Encik Samsuddin menggunakan RM 600 000 untuk membeli sebuah kondominium di Kuala Lumpur sebagai pelaburan.

Jelaskan jenis pelaburan yang dilakukan tersebut?

.....

.....

.....

.....

.....

.....

.....

.....

.....

.....

.....

.....

.....

.....

.....

[5 markah]

(c) Jadual di bawah menunjukkan butiran perbelanjaan Firma Samsuddin

| Butiran | RM |
|-----------------------------|---------------|
| Sewa bangunan | 4 000 |
| Kos upah buruh | 5 000 |
| Kos bahan mentah | 20 000 |
| Bil air dan elektrik | 1 000 |

i) Firma tersebut mengeluarkan 1000 unit keluaran dan menjualnya dengan harga RM 45 seunit. Hitungkan untung.

.....
.....
.....
.....
.....

[2 markah]

ii) Jelaskan perbezaan jenis kos yang terlibat berdasarkan maklumat tersebut.

.....
.....
.....
.....
.....
.....
.....
.....
.....
.....
.....
.....
.....
.....
.....
.....

[4 markah]

(d) Bagaimanakah kecanggihan dalam teknologi meningkatkan produktiviti sebuah firma?

.....

.....

.....

.....

.....

.....

.....

.....

.....

.....

[4 markah]

3. (a) Maklumat berikut adalah situasi ekonomi Malaysia.

Kuala Lumpur : Kadar Pengangguran di Malaysia meningkat sedikit sebanyak 0.1 mata peratus kepada 4.8 peratus pada november 2020 berbanding bulan sebelumnya dengan bilangan penganggur direkodkan seramai 764,400 orang.

Sumber Harian Metro : Januari 2021

Jelaskan dasar fiskal Kerajaan yang sesuai digunakan dalam mengatasi situasi ini?

.....

.....

.....

.....

.....

.....

.....

.....

.....

.....

.....

.....

.....

.....

.....

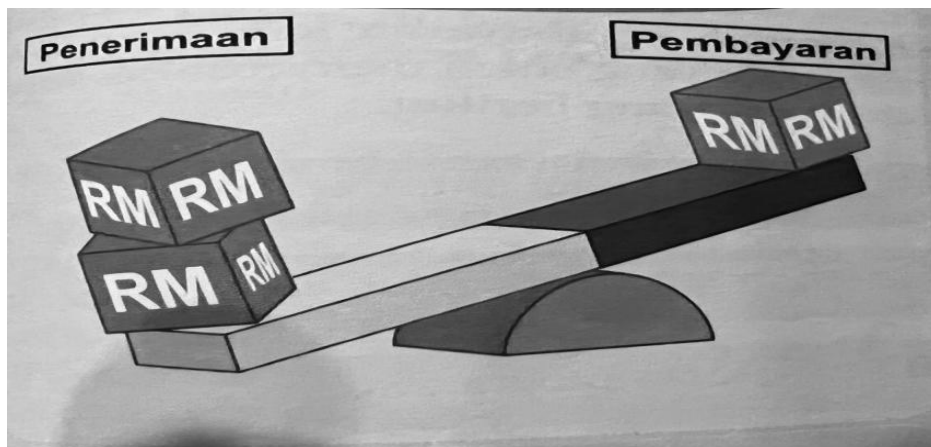
.....

.....

.....

[5 markah]

(b) Maklumat berikut adalah tentang akaun semasa negara Malaysia.



i) Nyatakan keadaan akaun semasa ini?

.....
.....

[1 markah]

ii) Jelaskan sebab situasi akaun di (i) boleh berlaku?

.....
.....
.....
.....
.....
.....
.....
.....
.....
.....
.....
.....
.....
.....
.....
.....
.....
.....
.....
.....
.....
.....

[5 markah]

(c) Mengapakah pelaburan asing penting kepada sesebuah negara?

.....

.....

.....

.....

.....

.....

.....

.....

.....

.....

[4 markah]

(d) Jadual di bawah ini menunjukkan kadar pertukaran asing antara Ringgit Malaysia dengan beberapa mata wang asing

| Mata wang | Harga Belian (RM) | Harga Jualan (RM) |
|-----------|-------------------|-------------------|
| US\$ 1.00 | 4.2011 | 4.2018 |
| ¥100 | 3.8455 | 3.8460 |

i) Sebuah syarikat di Jepun telah membeli sebuah mesin dari Malaysia dengan harga 150 000 yen. Hitungkan nilai dalam Ringgit Malaysia yang perlu dibayar oleh syarikat tersebut.

.....

.....

.....

.....

[2 markah]

ii) Beri alasan anda, negara mana menjadi pilihan untuk melancong berdasarkan nilai mata wang tersebut?

.....

.....

.....

.....

.....

[3 markah]

BAHAGIAN B- [40 MARKAH] -

Jawab mana-mana **dua soalan** daripada bahagian ini.

1. Maklumat di bawah menunjukkan kereta Persona keluaran Proton Holding.

Kerajaan telah memberikan bantuan subsidi kepada Proton Holding. Firma Proton amat menyokong tindakan kerajaan ini dan amat berterima kasih atas tindakan kerajaan ini



- (a) Jelaskan jenis keanjalan harga permintaan barang tersebut. [4 markah]
- (b) Sebagai seorang firma bagaimanakah usaha anda untuk memastikan jualan kereta tersebut mendapat sambutan daripada pengguna. Kemukakan alasan anda. [9 markah]
- (c) Mengapakah kerajaan memberikan bantuan tersebut. [7 markah]

2. Maklumat berikut berkaitan dengan situasi pada masa kini.

Generasi sekarang terutama generasi Y (yang berumur kurang daripada 40 tahun) kini kelihatan jelas mengamalkan gaya hidup berlumba-lumba untuk dilihat hidup dalam kemewahan.

- (a) Jelaskan jenis perbelanjaan yang dilakukan generasi Y tersebut? [4 markah]
- (b) Cadangkan tindakan yang anda perlu lakukan agar tidak menghadapi situasi tersebut. Jelaskan. [9 markah]
- (c) Bagaimana perbelanjaan ini memberi kesan sekiranya menjadi trend kepada generasi Y. [7 markah]

3. Maklumat berikut berkaitan dengan operasi sebuah bank tempatan.



Merupakan bank keempat terbesar di Asia Tenggara. Pasaran utama meliputi Malaysia, Singapura dan Indonesia. Beroperasi di semua negara ASEAN dengan rangkaian 1,177 cawangan.

- (a) Terangkan jenis deposit yang boleh disediakan oleh bank ini. [4 markah]
- (b) Kemukakan alasan, usaha yang perlu dilaksanakan oleh syarikat tersebut bagi memastikan pendapatan operasinya sentiasa meningkat. [9 markah]
- (c) Jelaskan faktor yang mendorong bank tersebut beroperasi di semua negara ASEAN? [7 markah]
4. Maklumat berikut berkaitan dengan suatu situasi ekonomi di Malaysia.



- (a) (i) Nyatakan arah aliran pengangguran Januari-April 2020. [1 markah]
- (ii) Jelaskan jenis pengangguran antara 2% hingga 4%. [3 markah]
- (b) Jelaskan kesan pengangguran tersebut terhadap pasaran barang dan perkhidmatan. [7 markah]
- (c) Bincangkan bagaimanakah situasi ini memberi kesan kepada pertumbuhan ekonomi. [9 markah]

KERTAS PEPERIKSAAN TAMAT

Disediakan oleh

Disemak Oleh

Disahkan oleh

Guru Ekonomi
SAMSUDDIN IJUM

Ketua Panitia Ekonomi
MASNI BINTI TANRA

Ketua Bidang Teknik & Vokasional
BUNGA JURIAH BINTI MIJAN